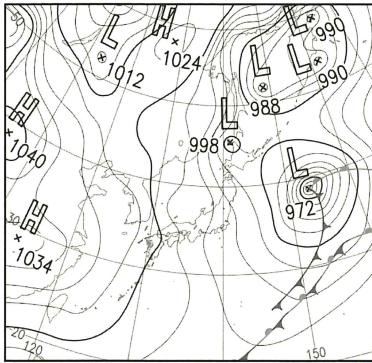
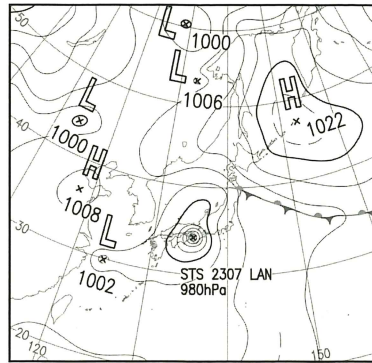


(5) 次の選択肢ア～エはそれぞれ2023年のある日の天気図を表している。日本列島に台風が上陸している日の天気図として最も適するものを1つ選び、記号で答えなさい。

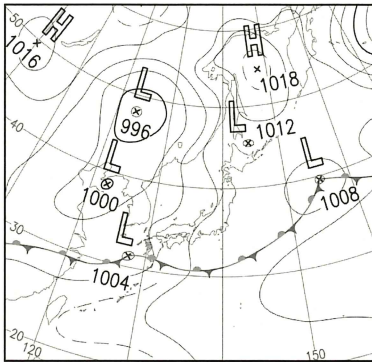
ア



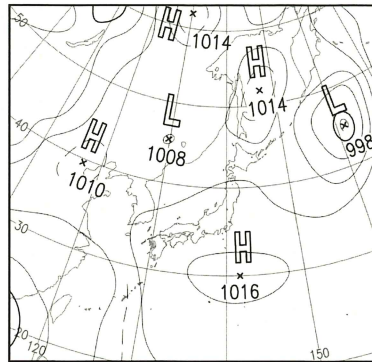
イ



ウ



エ



出典：気象庁HP

(6) 図5は2011年から2020年までに発生した台風の経路を示している。台風は水温が高く、水蒸気が豊富な熱帯の海洋上で多く発生するが、図5をみると赤道上では発生していない。水温が高い赤道上で台風が発生しないのはなぜか答えなさい。

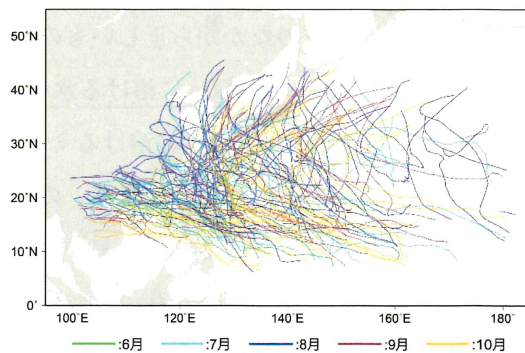


図5

出典：JCDP